



## Vorbereiding toets rekenen: blok 4



Halveer en vul in.

Ik splits 54 in . en . .	Ik splits 540 in . en . .
	
De helft van . is . . . is de helft van . .	De helft van . is . . . is de helft van . .

De helft van 78 is  .

De helft van 780 is  .

Verdubbel en vul in.

	
$\square + \square = \square$ Het dubbele van . is . . . is het dubbele van . .	$\square + \square = \square$ Het dubbele van . is . . . is het dubbele van . .

Het dubbele van 44 is  .

Het dubbele van 440 is  .

Welk deel is gekleurd? Welk deel is niet gekleurd? Schrijf de breuk.



	gekleurd: $\frac{\quad}{\quad}$ wit: $\frac{\quad}{\quad}$
---	---

Kleur 2 van dit vierkant.

3




**Bereken de breuk.**

 <p>Neem <math>\frac{4}{5}</math>.</p> <p><math>\frac{4}{5}</math> van 35</p> <p>Eerst <math>\frac{1}{5}</math> van 35 = . : . = .</p> <p>Dan <math>\frac{4}{5}</math> van 35 = . keer <math>\frac{1}{5}</math> van .</p> <p>= . x . = .</p>	 <p>Neem <math>\frac{3}{8}</math>.</p> <p><math>\frac{3}{8}</math> van 40</p> <p>Eerst <math>\frac{1}{8}</math> van 40 = . : . = .</p> <p>Dan <math>\frac{3}{8}</math> van 40 = . keer <math>\frac{1}{8}</math> van .</p> <p>= . x . = .</p>
---	---

**Reken uit.**

$78 : 6 = ( \quad + \quad ) : 6 = \quad + \quad = \quad$ $60$	$36 : 2 = ( \quad + \quad ) : 2 = \quad + \quad = \quad$
$96 : 8 = ( \quad + \quad ) : 8 = \quad + \quad = \quad$	$51 : 3 = ( \quad + \quad ) : 3 = \quad + \quad = \quad$
$48 : 4 = ( \quad + \quad ) : 4 = \quad + \quad = \quad$	$75 : 5 = ( \quad + \quad ) : 5 = \quad + \quad = \quad$

$60 : 10 = \quad$ $90 : 10 = \quad$ $100 : 10 = \quad$ $120 : 10 = \quad$ $180 : 10 = \quad$ $200 : 10 = \quad$ $250 : 10 = \quad$ $300 : 10 = \quad$		$200 : 100 = \quad$ $300 : 100 = \quad$ $500 : 100 = \quad$ $700 : 100 = \quad$ $400 : 100 = \quad$ $900 : 100 = \quad$ $100 : 100 = \quad$ $1000 : 100 = \quad$
--	---	---

Vul de som of het verschil in.

$760 + 50 = .$	$690 + 40 = .$
$380 + 32 = .$	$740 + 87 = .$
$350 + 184 = .$	$530 + 291 = .$
$871 + 90 = .$	$854 + 70 = .$
$453 + 260 = .$	$495 + 340 = .$

$320 - 60 = .$

$218 - 30 = .$

$870 - 95 = .$

$460 - 82 = .$

$650 - 273 = .$

$536 - 340 = .$

Hoeveel kost het samen? Eerst schatten, dan cijferen! Vul in.

€ 637 houten speeltuig  
€ 348 glijbaan  
 Samen kost het € \_\_\_\_\_.

$637 + 348 \rightarrow \begin{matrix} . & + & . & = & . \\ . & & . & & . \end{matrix} \rightarrow \square$

H	T	E

+

€ 379 computer  
€ 518 televisie  
 Samen kost het € \_\_\_\_\_.

$379 + 518 \rightarrow \begin{matrix} . & + & . & = & . \\ . & & . & & . \end{matrix} \rightarrow \square$

H	T	E

+



Naam: \_\_\_\_\_

Kruis de vierhoeken aan waarin je diagonalen herkent.



Vul in.

1 kg = \_\_\_\_\_ keer 100 g


1 kg = 2 keer \_\_\_\_\_ g

1 kg = \_\_\_\_\_ keer 250 g

1 kg = \_\_\_\_\_ g







$\frac{1}{2}$  kg = \_\_\_\_\_ g

Rangschik van zwaar naar licht. Nummer van 1 tot 7.



Naam: \_\_\_\_\_

Vul de tijdstippen in.

	 Naar school om _____
	 zWISO om _____
	 Spelen om _____
	 Naar huis om _____

Hoe laat is het?

 lezen we als _____	 lezen we als _____
---	--